



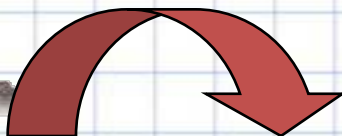
**Урок математики
в 1 классе
«Плюс 2. Минус 2»**

13 ноября 2019 г.





$+ 1$



0

1

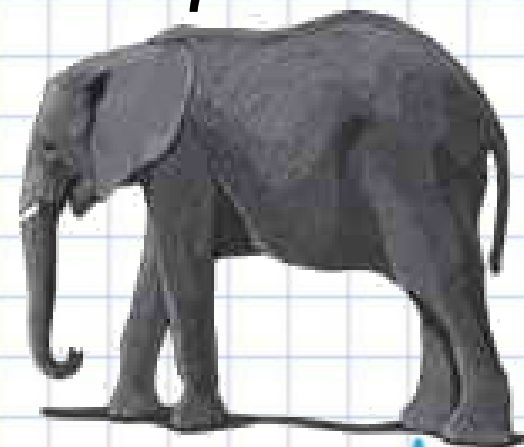

3

4

5

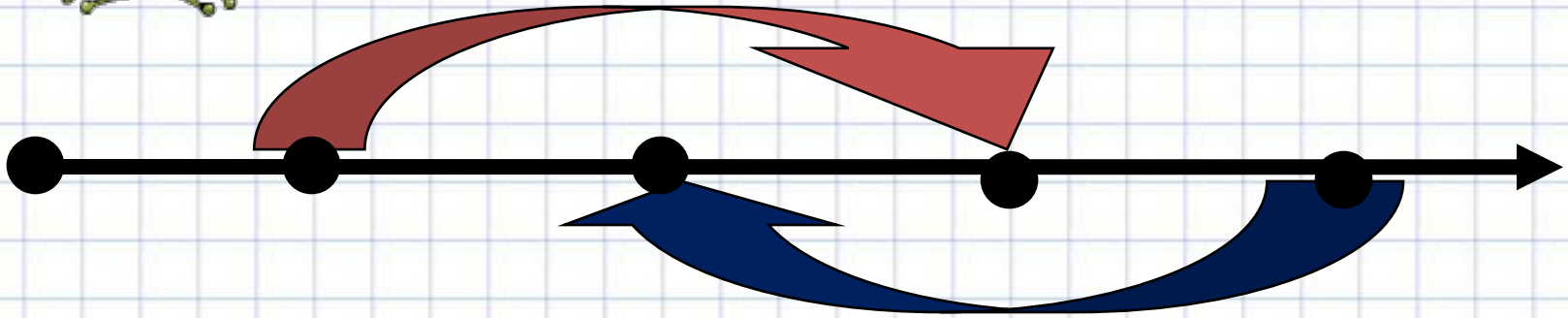
7

$- 1$





$+ 2$



$- 2$



$\square + 2$

$\square - 2$

Объясни, как можно к числу прибавить 2, как из числа вычесть 2.

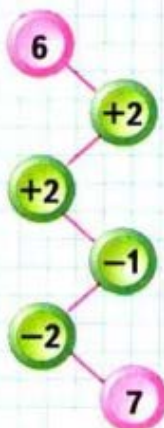


$$\begin{array}{r} 6 + 2 \\ 6 + 1 + 1 \end{array}$$



$$\begin{array}{r} 6 - 2 \\ 6 - 1 - 1 \end{array}$$

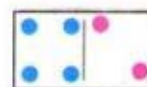
ЦЕПОЧКА:



$$\begin{array}{r} 8 - 2 \\ 8 - 1 - 1 \end{array}$$

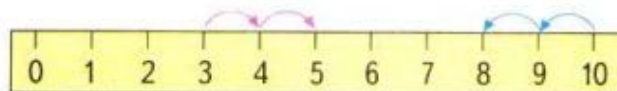


$$\begin{array}{r} 9 - 2 \\ 9 - 1 - 1 \end{array}$$



$$\begin{array}{r} 4 + 2 \\ 4 + 1 + 1 \end{array}$$

2.



$3 + 2$

$10 - 2$

3.

Узнай длину этих отрезков в сантиметрах. Начерти в тетради отрезки такой же длины.



$\square + 2$

$\square - 2$



$$\begin{array}{r} 6 + 2 = \\ \hline 6 + 1 + 1 = 8 \end{array}$$



$$\begin{array}{r} 7 - 2 = \\ \hline 7 - 1 - 1 = 5 \end{array}$$


- Покажи разным цветом, как можно по-разному получить число 4.

4 | 2 | 1 | 1 | 1



$$\square + 2$$

$$\square - 2$$



$$\begin{array}{r} 6 + 2 = 8 \\ \hline 6 + 1 + 1 = 8 \end{array}$$

$$\begin{array}{r} 7 - 2 = 5 \\ \hline 7 - 1 - 1 = 5 \end{array}$$

$$\square + 2$$

$$\square - 2$$



$$\begin{array}{r} 6 + 2 = \\ \hline 6 + 1 + 1 = 8 \end{array}$$



$$\begin{array}{r} 7 - 2 = \\ \hline 7 - 1 - 1 = 5 \end{array}$$

● Покажи разным цветом, как можно по-разному получить число 4.

4 | 2 | 1 | 1 | 1



Я

УЗНАЛ

УДИВИЛСЯ ...

НАУЧИЛСЯ ...

запомнил...

Молодцы!!!

GIF.RU

Так держать!!!

